



2年のテスト①

組 番

名前

100点

1 つぎの数を^{かず}書きましよう。

① 100を9こと、10を2こと、
1を3こあわせた数

② 1000を4こと、1を5こ
あわせた数

③ 100を50こあつめた数

④ 10000より1小さい数

2 ^{ひっさん}筆算でましよう。

① 95+48

| | | |
|--|--|--|
| | | |
| | | |
| | | |

② 567+4

| | | | |
|--|--|--|--|
| | | | |
| | | | |
| | | | |

③ 241+29

| | | | |
|--|--|--|--|
| | | | |
| | | | |
| | | | |

④ 135-68

| | | | |
|--|--|--|--|
| | | | |
| | | | |
| | | | |

⑤ 106-59

| | | | |
|--|--|--|--|
| | | | |
| | | | |
| | | | |

⑥ 751-36

| | | | |
|--|--|--|--|
| | | | |
| | | | |
| | | | |

3 ^{けいさん}計算をましよう。

① 4×6

② 5×2

③ 9×9

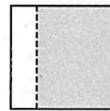
④ 6×7

⑤ 8×3

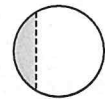
⑥ 7×7

4 ^{いろ}色をぬったところが、もとの大きさの
 $\frac{1}{2}$ と $\frac{1}{4}$ になっている^ず図をそれぞれ
えらびましよう。


あ



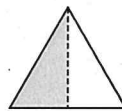
い



う



え



お



$\frac{1}{2}$ の^ず図

$\frac{1}{4}$ の^ず図

5 にあてはまる数を書きましよう。

① 60^{ぶんかん}分間 = ^{じかん}時間

② 1日 = 時間