



2年のテスト②

組	番
名前	
100点	

1 □にあてはまる数を書きましょう。

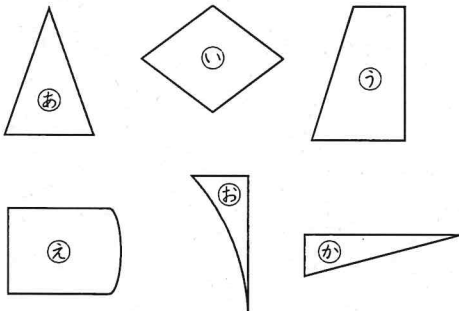
① 19mm = □ cm □ mm

② 5m20cm = □ cm

③ 78dL = □ L □ dL

④ 1000mL = □ L

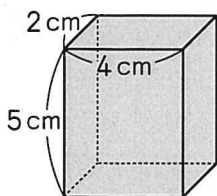
2 ^{さんかくけい} 三角形, ^{しよんかくけい} 四角形をすべて
見つけましょう。



① 三角形

② 四角形

3 下のようなのはこの形には, つぎの
^{なが}長さの辺がいくつあるでしょうか。



① 4cmの辺

② 2cmの辺

4 下のグラフは, はるとさんが読んだ
^{ものがたり}物語のさつ数をあらわしています。

読んだ物語のさつ数

		○		
		○		
○		○	○	
○		○	○	○
○	○	○	○	○
10	11	12	1	2
月	月	月	月	月

① グラフをもとにして, ^{ひょう}表に
あらわしましょう。

読んだ物語のさつ数

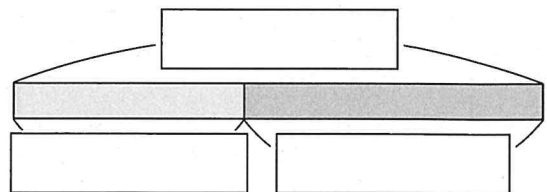
月	10月	11月	12月	1月	2月
さつ数(さつ)	3				

② いちばんさつ数が多い月は何月
でしょうか。

5 ^{としよしつ}図書室に子どもが32人います。
何人か出ていったので, のこりが
14人になりました。

出ていった人は何人でしょうか。

テープ図にあらわして考えましょう。



しき

こたえ