



まとめのテスト⑧

組	番
名前	
100点	

1 □にあてはまる数を書きましょう。

① 9714は、1000を□こと、  
100を□こと、10を□こと、  
1を□こあわせた数です。

② 1000を4こと、10を6こ  
あわせた数は□です。

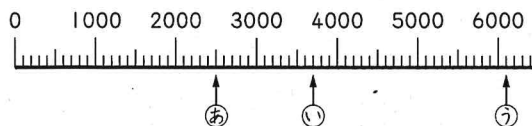
③ 2800は100を□こ  
あつめた数です。

2 □にあてはまる数を書きましょう。

① 10000は□を  
10こあつめた数です。

② 9999より1大きい数は  
□です。

3 ①から③のめもりがあらわす数を書きましょう。



① □

② □

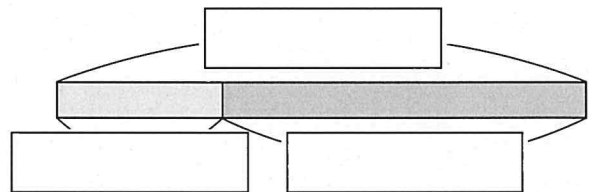
③ □

4 本だなに本が何さつかありました。

18さつ買ったので、ぜんぶで  
26さつになりました。

はじめに本は何さつあった  
でしょうか。

テープ図にあらわして考えましょう。



しき式

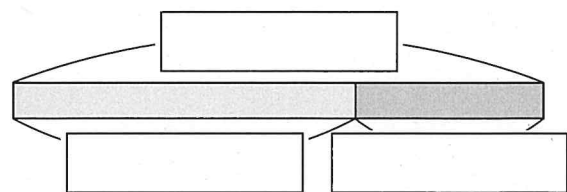
答え \_\_\_\_\_

5 あめが36こあります。

何かくばったので、のこりが  
23こになりました。

くばったあめは何こでしょうか。

テープ図にあらわして考えましょう。



しき式

答え \_\_\_\_\_