



5年のテスト②

組	番	
名前		100点

1 下の表は、りおさんの漢字テストの点数を表しています。

漢字テストは、平均何点でしょうか。

漢字テストの点数						
回数	1回	2回	3回	4回	5回	6回
点数(点)	80	75	90	85	100	95

式

答え \_\_\_\_\_

2 8分間で560まいの紙を印刷できるプリンターがあります。

① 1分間あたりに印刷できるまい数は何まいでしょうか。

式

答え \_\_\_\_\_

② 15分間では、何まい印刷できるでしょうか。

式

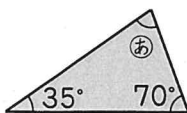
答え \_\_\_\_\_


3 5kgの土を3等分した1つ分の重さは何kgでしょうか。分数で表しましょう。

式

答え \_\_\_\_\_

4 下の㊸、㊹の角度を求めましょう。






5 下の表は、ある学校で2月にけがをした人の人数と割合を表したものです。

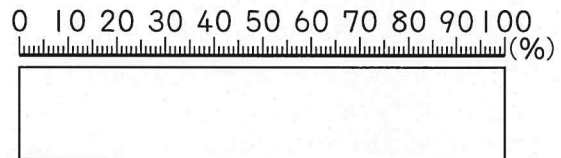
けがの人数と割合

種類	人数(人)	割合(%)
すりきず	28	35
切りきず	20	㊸
打ぼく	8	㊹
その他	24	30
合計	80	100

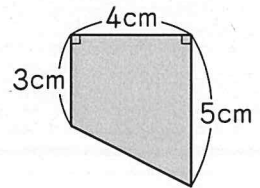
① ㊸、㊹にあてはまる数を書きましょう。

② それぞれのけがをした人数の割合を、帯グラフに表しましょう。

けがをした人数(合計80人)



6 右のような図形の面積を求めましょう。

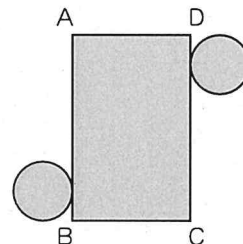
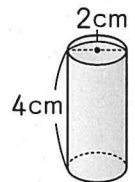


式

答え \_\_\_\_\_

7 下の図は、右のような円柱の展開図です。

辺ABの長さを求めましょう。



式

答え \_\_\_\_\_