



まとめのテスト⑦

名前

組

番

100点

1 計算をしましょう。

①  $\frac{2}{7} \times 5$

②  $\frac{5}{6} \times 4$

③  $\frac{3}{7} \times 14$

④  $1\frac{4}{5} \times 9$

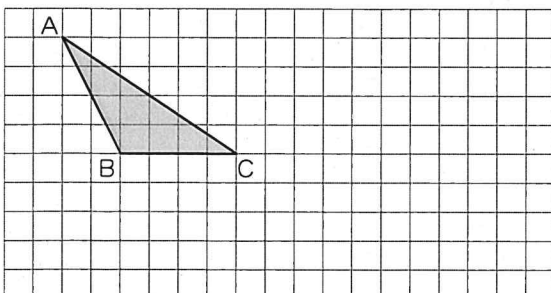
⑤  $\frac{4}{9} \div 3$

⑥  $\frac{7}{8} \div 14$

⑦  $\frac{12}{5} \div 6$

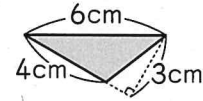
⑧  $3\frac{1}{8} \div 5$

2 三角形ABCと面積が等しい三角形を、  
辺BCを底辺としてかきましょう。



3 次のような図形の面積を求めましょう。

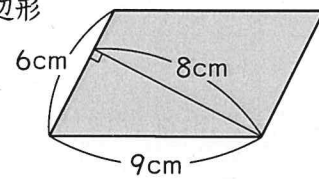
① 三角形



式

答え \_\_\_\_\_

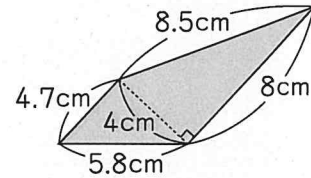
② 平行四辺形



式

答え \_\_\_\_\_

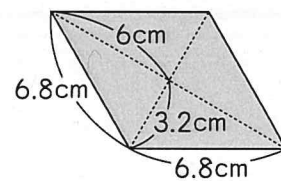
③ 台形



式

答え \_\_\_\_\_

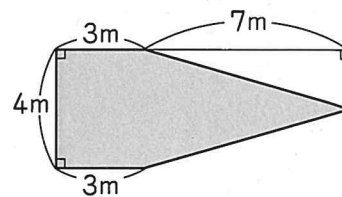
④ ひし形



式

答え \_\_\_\_\_

4 下のような五角形の面積を求めましょう。



式

答え \_\_\_\_\_