



まとめのテスト⑧

名前

組

番

100点

1 牛乳が $\frac{5}{6}$ リ入ったびんが3本あります。

① 牛乳は全部で何リあるでしょうか。
式

答え _____

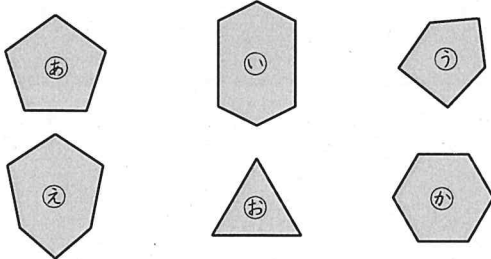
② この牛乳全部を8人に等しく分けます。
1人分の牛乳は何リになるでしょうか。
式

答え _____

2 テープを5等分したら、1つ分の長さが $\frac{2}{9}$ mになりました。
もとの長さは何mだったでしょうか。
式

答え _____

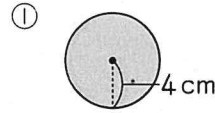
3 下の多角形①から⑦のうち、正多角形はどれでしょうか。3つ書きましょう。



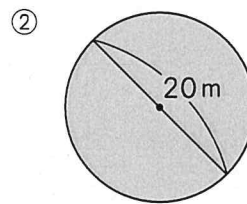
4 次の正多角形を、円の中心の周りの角を等分する方法でかくには、等分した1つ分の角度を何度にするればよいでしょうか。

① 正方形 ② 正六角形

5 次の円の円周の長さを求めましょう。

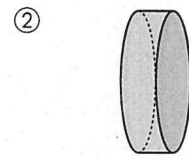
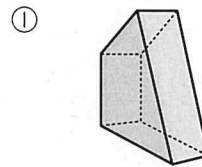


答え _____

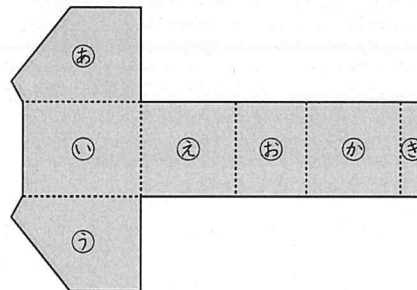


答え _____

6 次の立体の名前を書きましょう。



7 下の図は、ある立体の展開図です。



① 底面はどれでしょうか。 _____

② 底面はどんな図形でしょうか。 _____

③ この展開図を組み立てたときにできる立体の名前を書きましょう。 _____