

1

なかよし あつまれ ①

なまえ

くみ

ばん


ねらい 2枚の絵の違いを、多少、形、位置等の観点でとらえることができる。

考 知


1 うえの えと したの えで、ちがう ところを みつけましょう。

みつけたら したの えに ○を つけましょう。

(うえの え)



(したの え)



1
2

なかよし あつまれ ②

なまえ

くみ

ばん

考 ② 知

ねらい ある観点に応じてものの集合をとらえることができる。

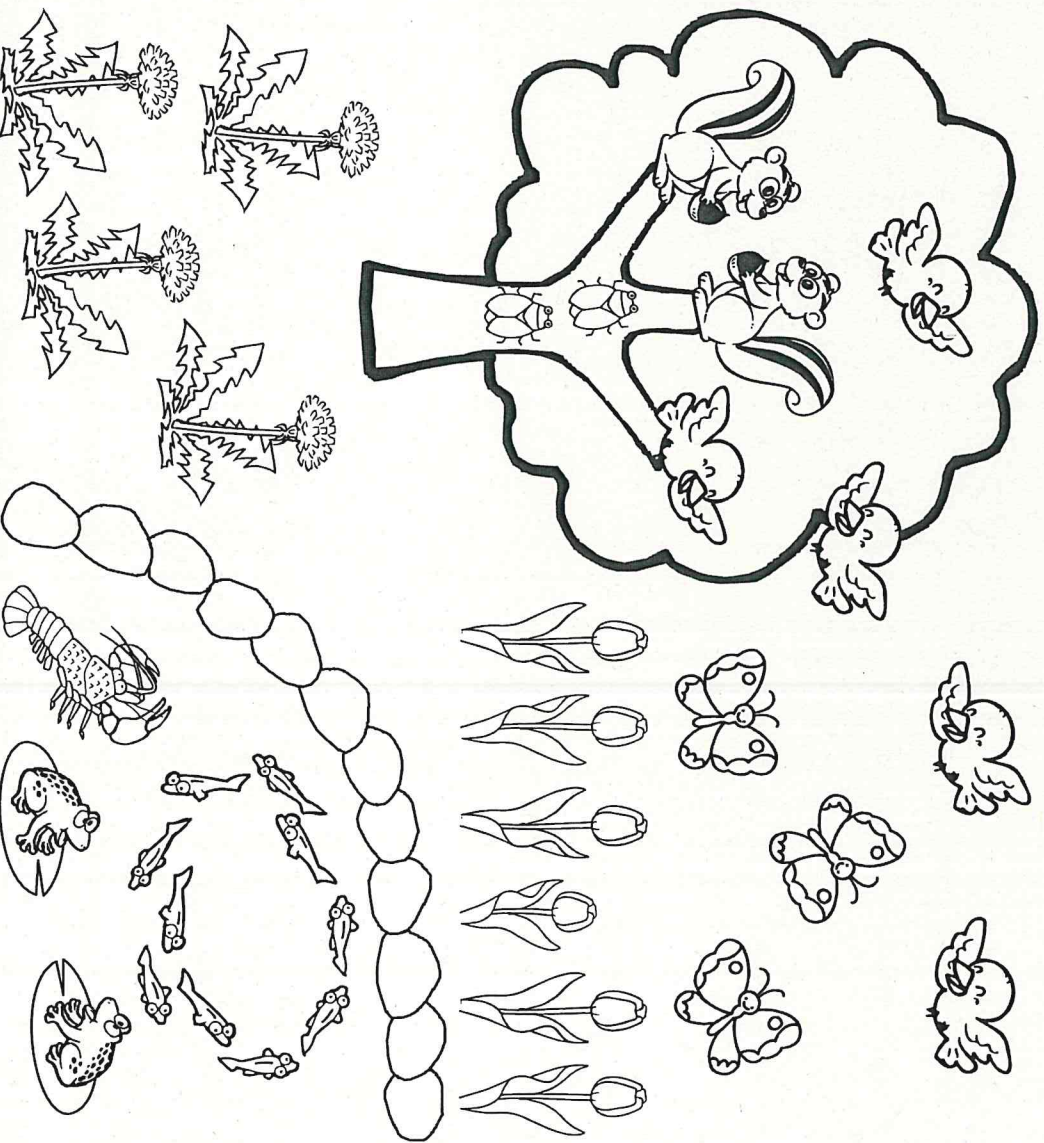
① えをみて こたえましょう。

② たんぽぽを で かこみましょう。

③ ことりを で かこみましょう。

④ たかきの ひくい ちゅうりつぶを で かこみましょう。

⑤ いけの なかに すんでいる いきものを で かこみましょう。



1 **3**

なかよし あつまれ ③

なまえ

くみ

ばん

ねらい

対応の操作やおはじきなどに置き換えて、個数の多少を比較することができる。

考(技)知

- 1 ひとつずつ —— で むすんだり、おはじきを おいたりして かんがえましょう。
 おおいほうに ○ を つけましょう。
 おなじときは りょうほうに ○ を つけましょう。

①



②



③



④



4

1. いくつかな ①

なまえ

くみ



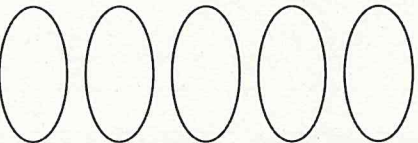
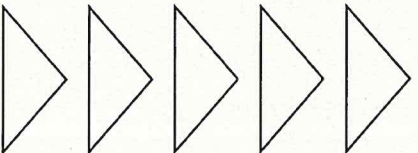

ばん

ねらい


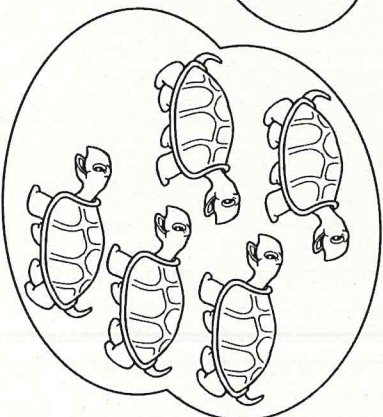

1～5の数の意味、数え方、読み方を理解する。

考 技 知

① すうじの かずだけ いろを ぬりましょう。

2	4	5	3	1
				

② おなじ かずを——で むすびましょう。



4

5

1

3

2

1
5

1. いくつかな ㊟

なまえ

くみ

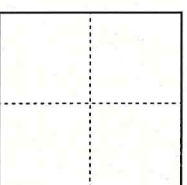


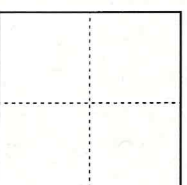

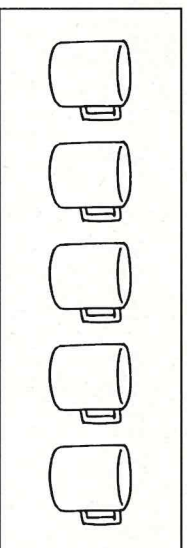
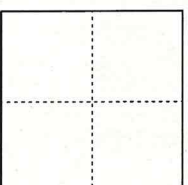
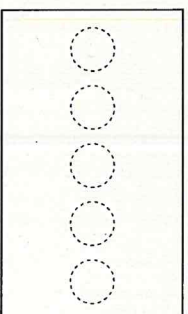

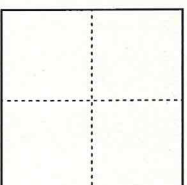
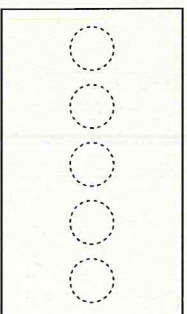

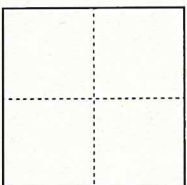
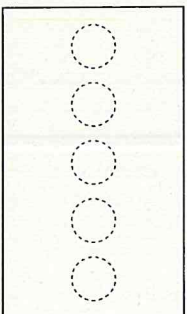
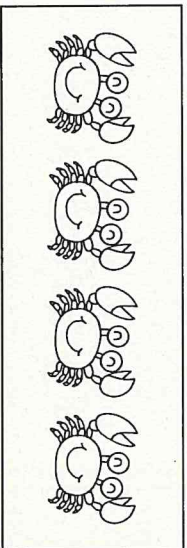
ぼん

考 技 知 ㊟

ねらい

1～5の数の意味、数え方、読み方、書き方を理解する。

1 ㊟ えと おなじ かずだけ 〇を ぬりましょう。 ㊟ に かずを かきましょう。



1 6

1. いくつかな ③

ねらい


具体物を数で書いたり、数字で表した大きさや絵やブロックで表すことができる。

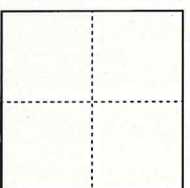

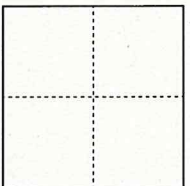
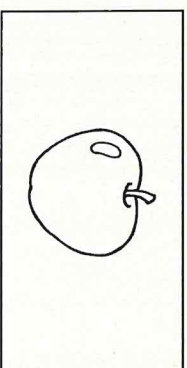
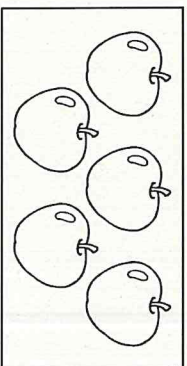
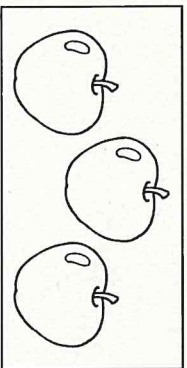
なまえ


くみ

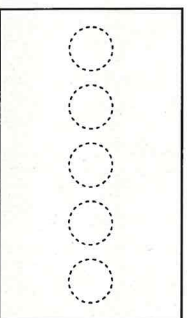
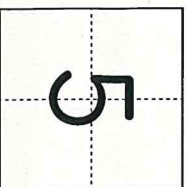
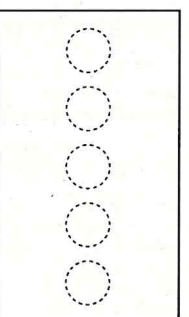
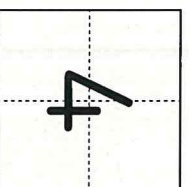
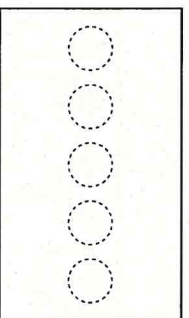
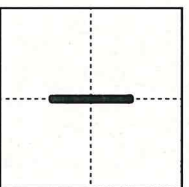
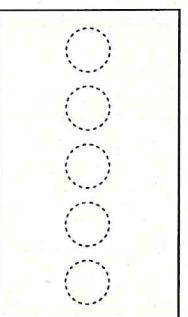
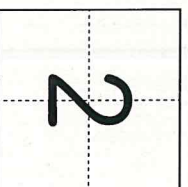
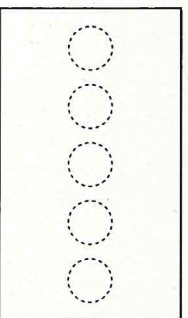

ぼん

考 ④ 知

1 りんごの かずを  に すうじで かきましょう。



2 すうじの かずだけ  を なぞりましょう。



1 7

1. いくつかな ④

ねらい

6～10の数の意味、数え方、読み方を理解する。

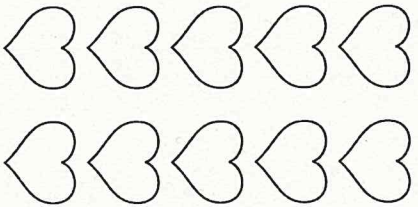


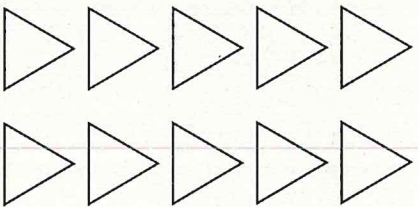
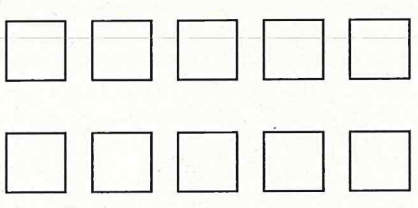
考 技 知

なまえ

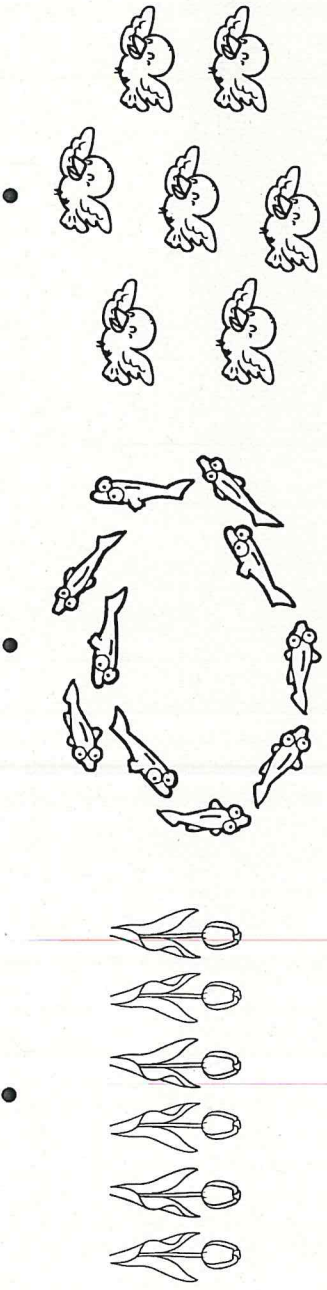
くみ

ぼん

1 サウジの かずだけ いろを ぬりましょう。

7	9	6	8	10
				

2 おなじ かずを——で むすびましょう。



6

7

8

9

10

1
8

1. いくつかを ⑤

ねらい

6～10の数の意味、数え方、読み方、書き方を理解する。

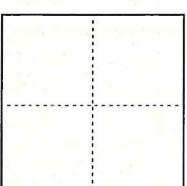


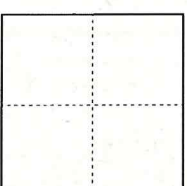

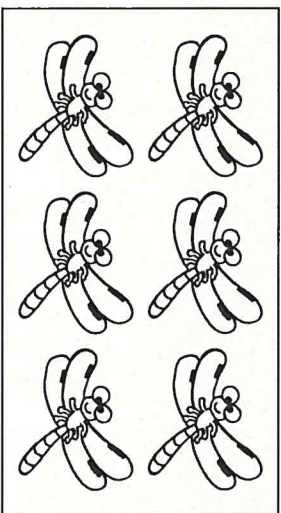
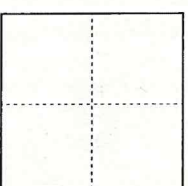

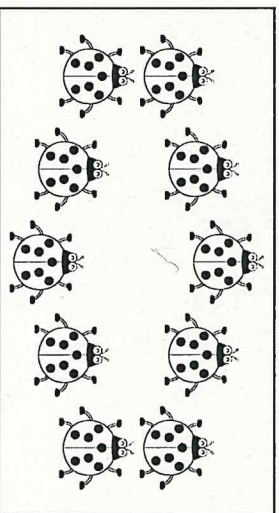
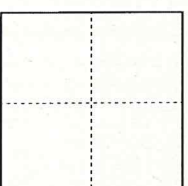

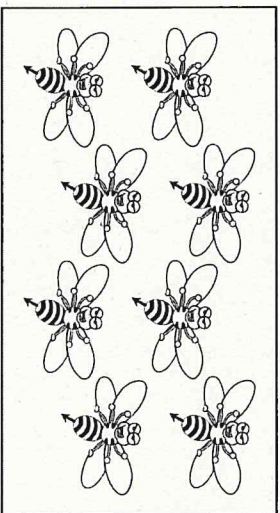
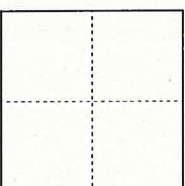


考 技 ⑤

な
ま
え

く
み

ぼ
ん

1 エと おなじ かずだけ ○ を ぬりましょう。 □ に かずを かきましょう。



1 9

1. いくつかな ㊦

ねらい


具体物やブロックを数で書いたたり、数字で表した大きさを絵やブロックで表すことができる。

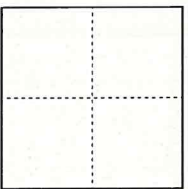
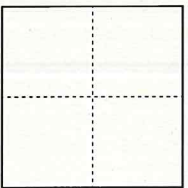
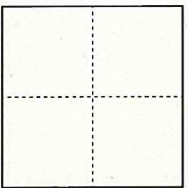
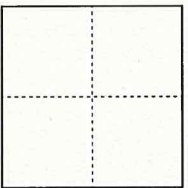




なまえ

くみ


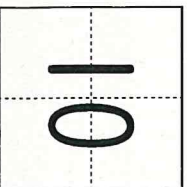

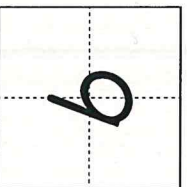

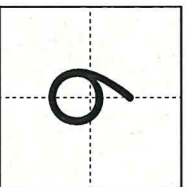

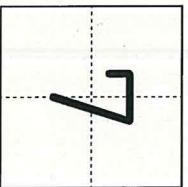
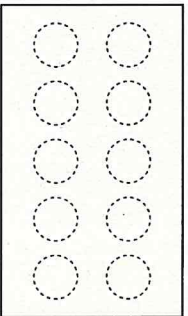
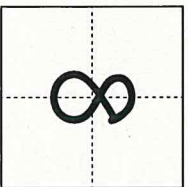
ぼん

考 ㊦ 知

1 おはじきの かずを  に すうじで かきましょう。



2 すうじの かずだけ  を なぞりましょう。



10

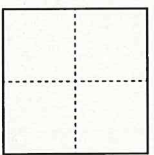
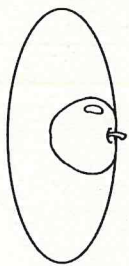
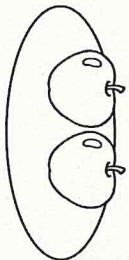
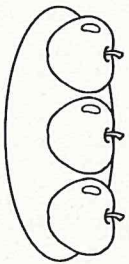
1. いくつかな ⑦

ねらい 0の意味、読み方、書き方を理解する。

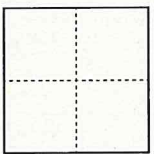
考 技 知

1 に かずを かきましよう。

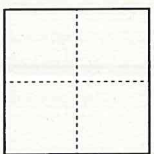
① りんごは いくつ あるでしよう。



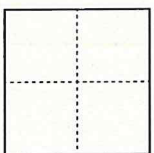
こ



こ

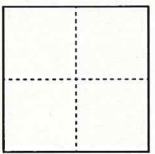

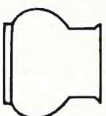





こ

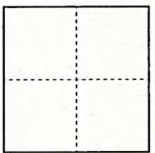


こ

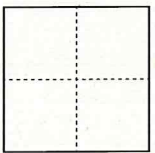
② かびんに はなは なんぼん あるでしよう。



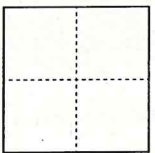
ぼん



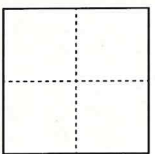
ぼん



ぼん



ぼん



ぼん

② さうじの 0の たいだい かきかたに Oを しましよう。

