

1

なかよし あつまれ ①

なまえ

くみ

ぼん

ねらい

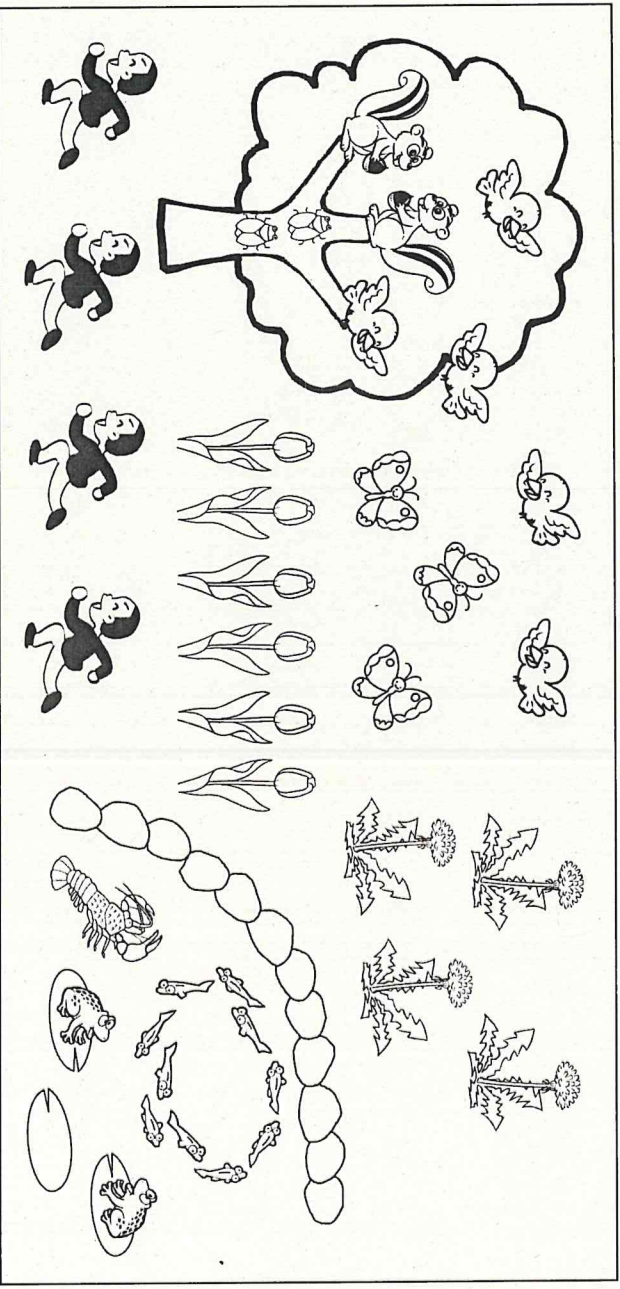
2枚の絵の違いを、多少、形、位置等の観点でとらえることができる。

考(技)知


1 うえの えと したの えで、ちがう ところを みつけましょう。

みついたら したの えに ○を つけましょう。

(うえの え)



(したの え)



①せみが木の下にいる ②小鳥が1羽いない ③たんぼぼが1本多い

④チューリップの高さが1本低い ⑤カエルが1匹多い ⑥1人が逆向き

1
2

なかよし あつまれ ㊦

なまえ

くみ

ぼん

ねらい ある観点に応じてものの集合をとらえることができる。

考 技 知

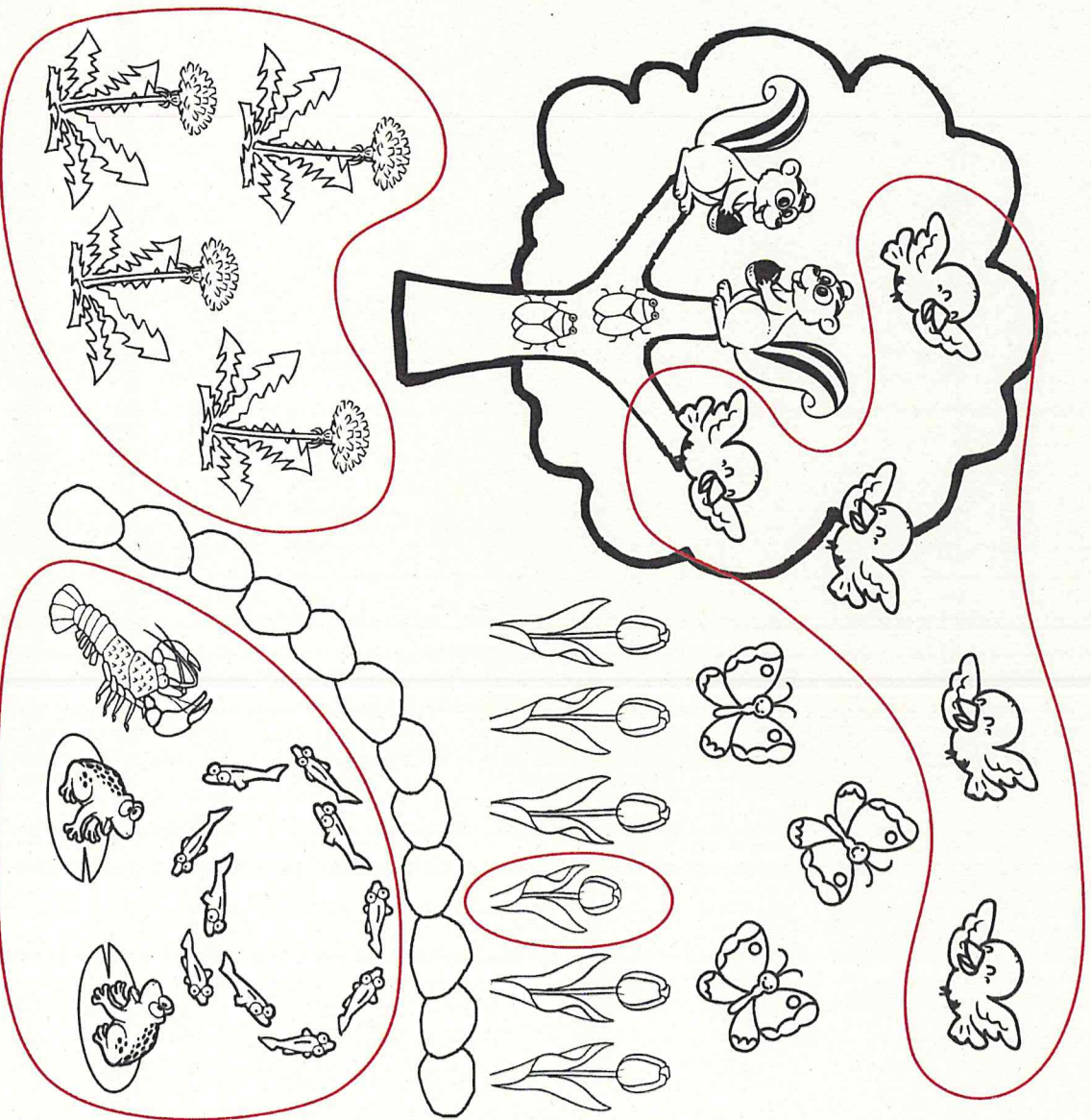
1 えをみて きたえましょう。

① たんぽぽを で かこみましょう。

② ことりを で かこみましょう。

③ たかきの ひくい ちゅうりつぶを で かこみましょう。

④ いけの なかに すんでいる いきものを で かこみましょう。



3

なかよし あつまれ ③

なまえ

くみ

ぼん

ねらい

対応の操作やおはじきなどに置き換えて、個数の多少を比較することができるところ。

考 技 知

① ひとつずつ —— で むすんだり、おはじきを おいたりして かんがえましょう。

おいしいものに ○ を つけましょう。

おなじときは りょうほうに ○ を つけましょう。

①

	<input type="checkbox"/>

②

	<input type="checkbox"/>

③

	<input type="checkbox"/>

④

	<input type="checkbox"/>

1
4

1. いくつかな ①

なまえ

くみ

ぼん

ねらい




1～5の数の意味、数え方、読み方を理解する。

考 技 知

1 サウジの かずだけ いろを ぬりましょう。

2	4	5	3	1

2 おなじ かずを——で むすびましょう。



Red lines connect the dots to the corresponding numbers in the boxes below:

- Dot 1 connects to the number 4.
- Dot 2 connects to the number 5.
- Dot 3 connects to the number 1.
- Dot 4 connects to the number 3.
- Dot 5 connects to the number 2.

1
5

1. いくつかな ㊟

ねらい

1～5の数の意味、数え方、読み方、書き方を理解する。



考 技 ㊟

な
ま
え


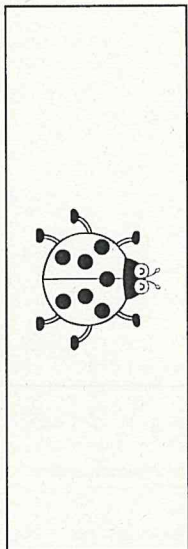
く
み

ぼ
ん



1 ㊟ えと おなじ かずだけ 〇を ぬりましょう。 □に かずを かきましょう。




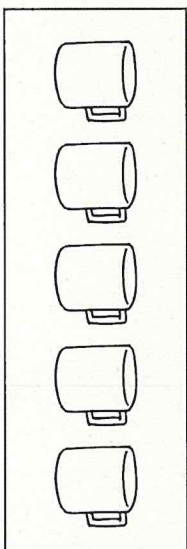
4



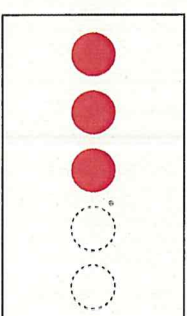

1



2



5



3

6

1. いくつかな ③

なまえ


くみ

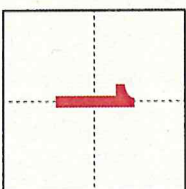
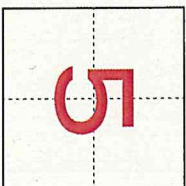
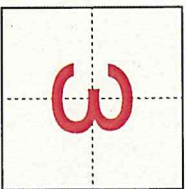

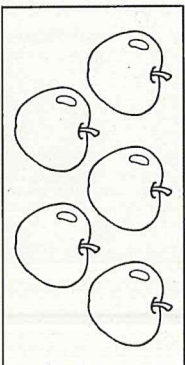
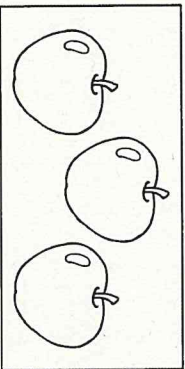
ぼん


考 ④ 知


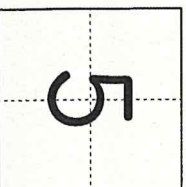

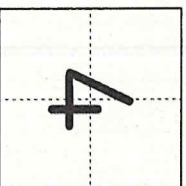
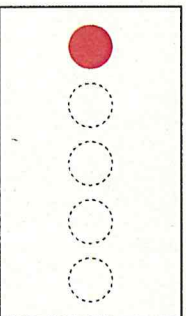
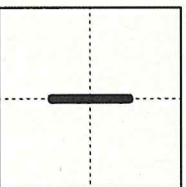
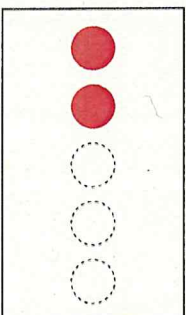
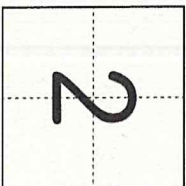


ねらい

具体物を数で書いたり、数字で表した大きさや絵やブロックで表すことができる。

- 1 リんごの かずを  に すうじで かきましょう。



- 2 すうじの かずだけ  を なぞりましょう。



1
7

1. いくつかな ④

なまえ

くみ



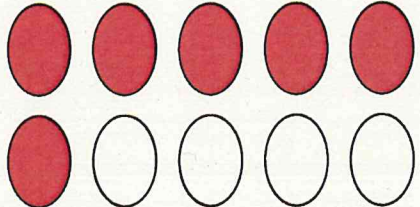


ぼん

ねらい

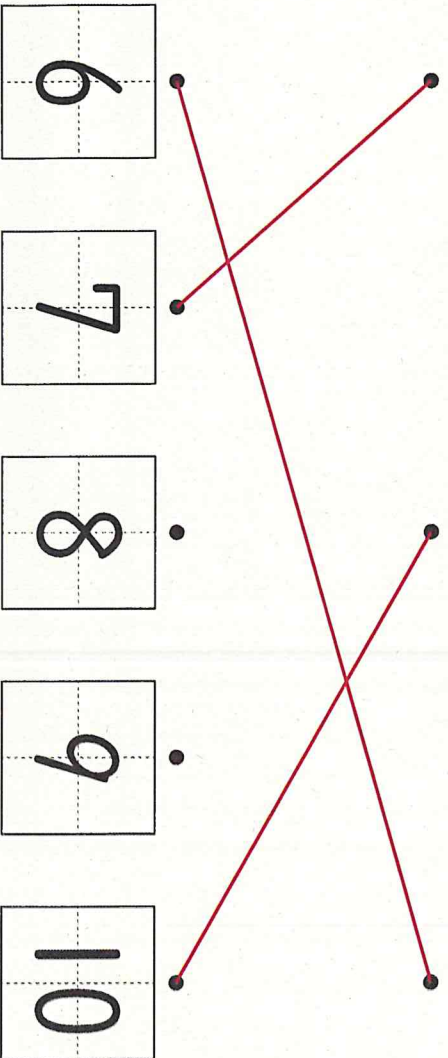
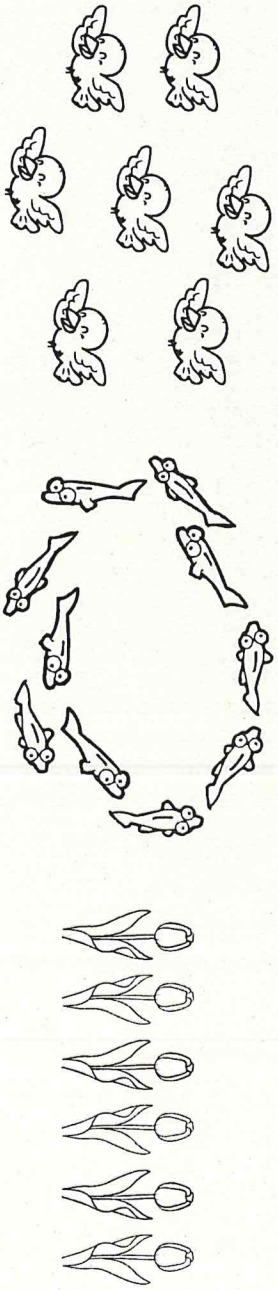
6~10の数の意味、数え方、読み方を理解する。

考 技 ④

① すうじの かずだけ いろを ぬりましょう。

7	9	6	8	10
				

② おなじ かずを——で むすびましょう。



8

1. いくつかな ㊦

ねらい

6～10の数の意味、数え方、読み方、書き方を理解する。



考 査 ㊦

なまえ


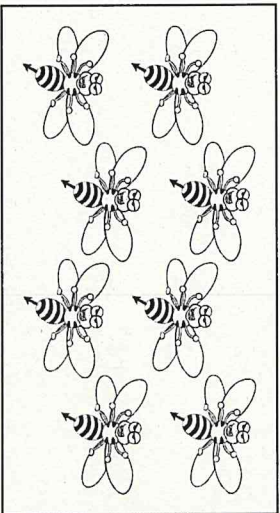
くみ

ぼん



㊦ エと おなじ かずだけ ○を ぬりましょう。 □に かずを かきましょう。




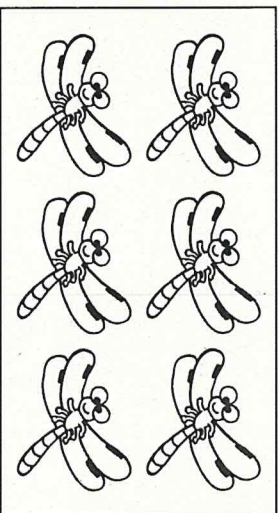
7





8



10



6



9

1 **9**

1. いくつかな ㊦

ねらい

具体物やブロックを数で書いたたり、数字で表した大きさを絵やブロックで表すことができる。

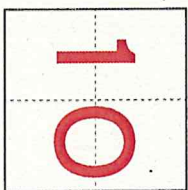
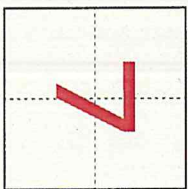
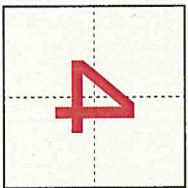
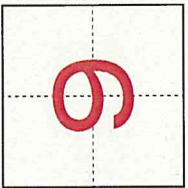




考(我)知

なまえ


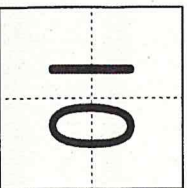

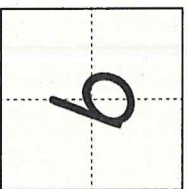

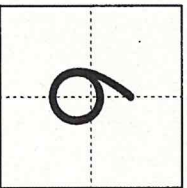

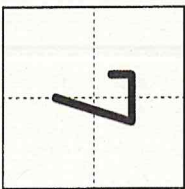

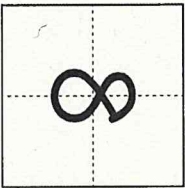
くみ

ばん

1 おはじきの かずを に すうじで かきましょう。



2 すうじの かずだけ を なぞりましょう。



10

1. いくつかな ⑦

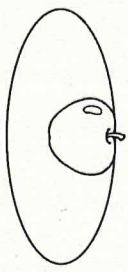

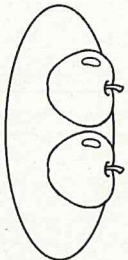
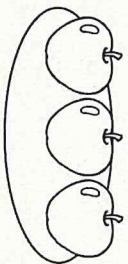
なまえ くみ ぼん

ねらい 0の意味、読み方、書き方を理解する。

考 技 (知)

1 [] に かずを かきましよう。

① りんごは いくつ あるでしよう。



3

こ

2

こ


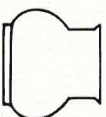



0

こ

1

こ

② かびんにはなは なんぼん あるでしよう。



7

ぼん

2

ぼん

5

ぼん

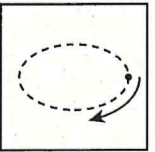
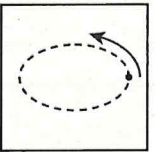
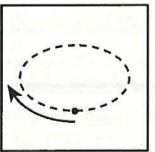
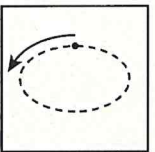
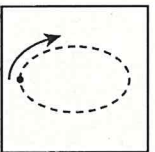
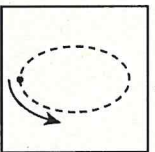
0

ぼん

1

ぼん

② すうじの 0の たいだい かきかたに Oを しましよう。



()

()

()

()

(O)

()