








## 11 社会科クイズ なまえ こたえ

① (1) 読みかたをうってから、書く練習をしなさい。

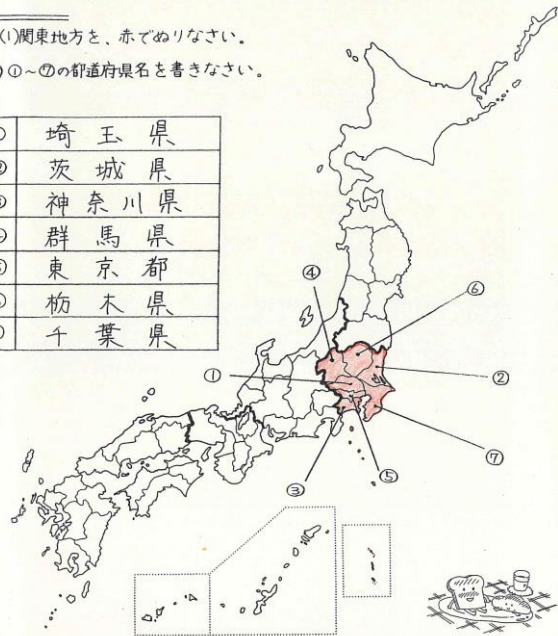
(いばらきけん)	茨城県	→	
(とちぎけん)	栃木県		
(ぐんまけん)	群馬県	→	
(ちばけん)	千葉県		
(さいたまけん)	埼玉県	→	
(とうきョウト)	東京都	→	
(かながわけん)	神奈川県	→	

(2) 関係のあるものを線でつなぎなさい。

② (1) 関東地方を、赤でぬりなさい。










(2) ①～⑦の都道府県名を書きなさい。

①	埼玉県
②	茨城県
③	神奈川県
④	群馬県
⑤	東京都
⑥	栃木県
⑦	千葉県



## 12 社会科クイズ なまえ こたえ

① (1) 読みかたをうってから、書く練習をしなさい。

(にいがたけん)	新潟県	→	
(とやまけん)	富山県		
(いしかわけん)	石川県	→	
(ふくいけん)	福井県		
(やまなしけん)	山梨県	→	
(ながのけん)	長野県	→	
(ぎふけん)	岐阜県	→	
(しずおかけん)	静岡県	→	
(あいちけん)	愛知県	→	

(2) 関係のあるものを線でつなぎなさい。

② (1) 中部地方を、緑色でぬりなさい。

(2) ①～⑨の都道府県名を書きなさい。

①	長野県
②	福井県
③	富山県
④	愛知県
⑤	石川県
⑥	静岡県
⑦	岐阜県
⑧	新潟県
⑨	山梨県

