

1 けいさんを しましょう。

①  $6+6=$                       ②  $4+9$

③  $7+7$                               ④  $17-8$

⑤  $13-8$                               ⑥  $12-5$

2 <sup>しかく</sup>□にあてはまる +か -を かきましょう。

①  $14 \square 5=9$                       ②  $40 \square 4=44$

③  $55 \square 5=50$                       ④  $70 \square 30=40$

3 ゆきさんは おりづるを 5こ つくりました。  
かいとさんは ゆきさんより 9こ おおく つくったそう  
です。

かいとさんは なんこ つくったでしょう。

しき

こたえ \_\_\_\_\_

4 おりがみを 11まい もって いました。4まい  
いもうとに あげました。

のこりは なんまい でしょう。

しき

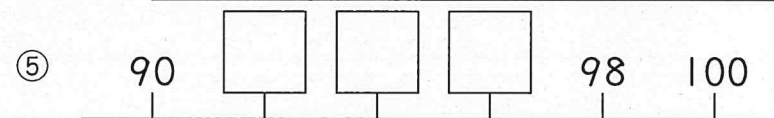
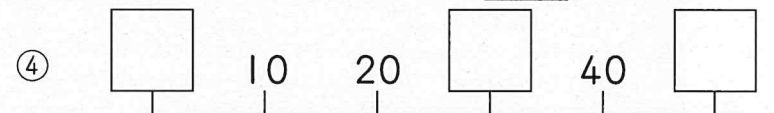
こたえ \_\_\_\_\_

5 □にあてはまる かずを かきましょう。

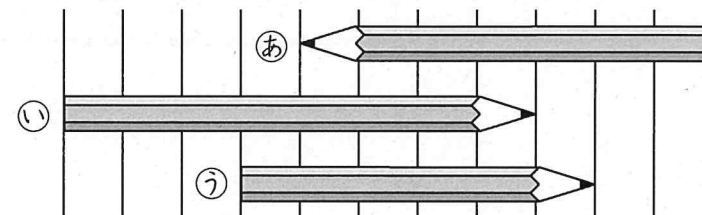
① 42は、10が □ こと、1が □ こ

② 56より 10 <sup>ちい</sup>小さい かずは □

③ 95より 5 <sup>おお</sup>大きい かずは □



6 ながい じゆんに こたえ しましょう。



□ , □