


まどめのテスト⑦

くみ	ばん
なまえ	

100点

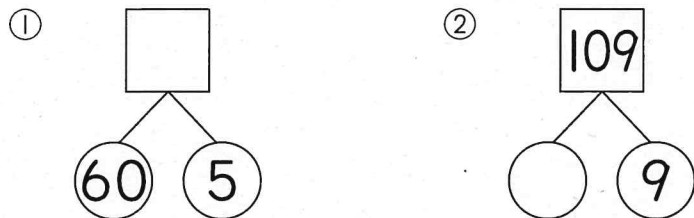
1 いくつ ありますか。



2 ^{しかく}□にあてはまる かずを かきましょう。

- ① 10が8こと, 1が9こで □
- ② 10が □こで 90
- ③ 100より 1 ^{ちい}小さい かずは □

3 □や ^{まる}○にあてはまる かずを かきましょう。



4 けいさんを しましょう。

- ① $30+40=$
- ② $80-70$
- ③ $70+7$
- ④ $99-9$

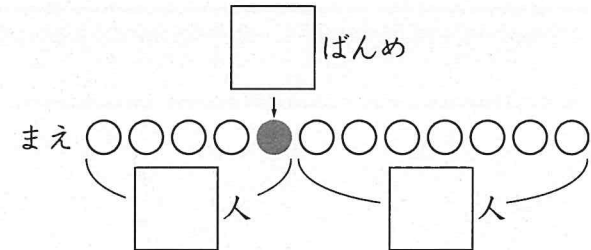
5 ながい じゆんに こたえましょう。

- あ
- い
- う

□, □

6 ふみこさんは まえから 5ばんめです。うしろには 7人 ^{にん} います。

ぜんぶで なん人 いるでしょうか。□にあてはまる かずを かいて かんがえましょう。



しき

こたえ _____

まどめの
テスト⑧


くみ ばん
なまえ


100点

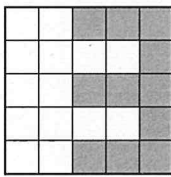
1 に ^{しかく}あてはまる かずを かきましょう。

- ① 75 80 95
- ② 32 34 38
- ③ 120 90 80


2 いろをぬったところは、どれが いちばん ひろい
でしょうか。


あ 


い 

う 

3 とけいを よみましょう。

① 

② 

③ 

4 ながい はりを せんで かきましょう。

- ① 10:38 ② 8:22 ③ 1:45

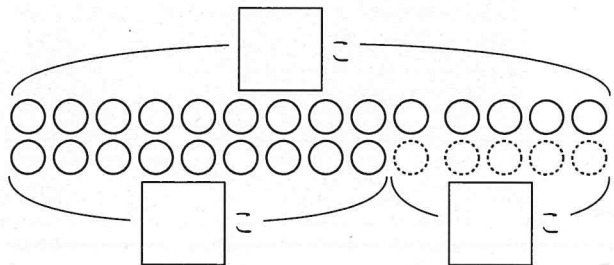


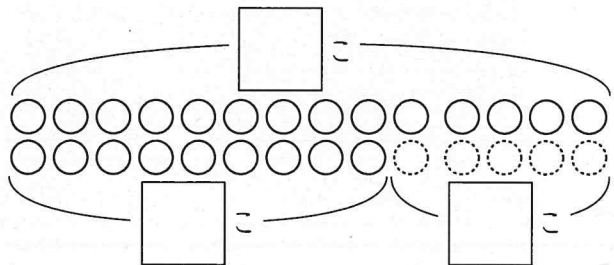
5 なつみさんは いちごを 14こ とりました。

りくさんは なつみさんより 5こ すくなくったそうです。

りくさんは いちごを なんこ とったでしょうか。

に あてはまる かずを かいて かんがえましょう。

なつみ 

りく 

すくない

しき

こたえ _____

1ねんのテスト①

くみ	ばん
なまえ	

100点

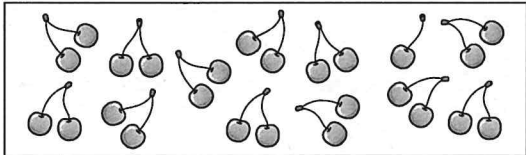
1 けいさんを しましょう。


- ① $7+1=$ ② $6-4$
- ③ $8+2$ ④ $10-9$
- ⑤ $10+6$ ⑥ $12-2$
- ⑦ $11+4$ ⑧ $15-1$

2 子どもが 3人 あそんで いました。そこへ 4人 きました。また 3人 きました。ぜんぶで なん人 になった でしょうか。しき


こたえ _____


3 いくつ ある でしょうか。


① 


② 


4 とけいを よみましょう。




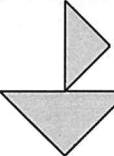
①  じ ぶん

② 




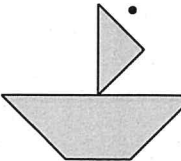
③ 

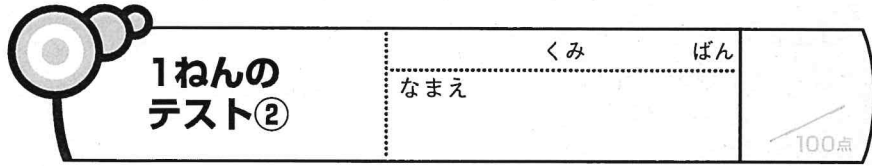
④ 

5  の いろいたを おなじ かずだけ つかった かたちを せんで おすび しましょう。

• • • •



1 けいさんを しましょう。

① $6+6=$ ② $4+9$

③ $7+7$ ④ $17-8$

⑤ $13-8$ ⑥ $12-5$

2 に あてはまる ^{しかく} + か - を かきましょう。

① $14 \square 5=9$ ② $40 \square 4=44$

③ $55 \square 5=50$ ④ $70 \square 30=40$

3 ゆきさんは おりづるを 5こ つくりました。
かいとさんは ゆきさんより 9こ おおく つくったそう
です。

かいとさんは なんこ つくったでしょう。

しき

こたえ _____

4 おりがみを 11まい もって いました。4まい
いもうとに あげました。

のこりは なんまい でしょう。

しき

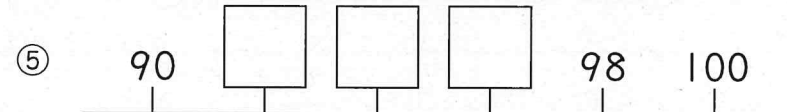
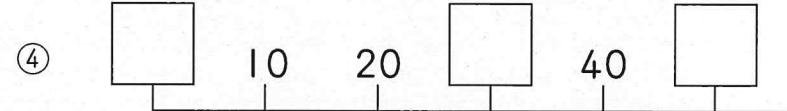
こたえ _____

5 に あてはまる かずを かきましょう。

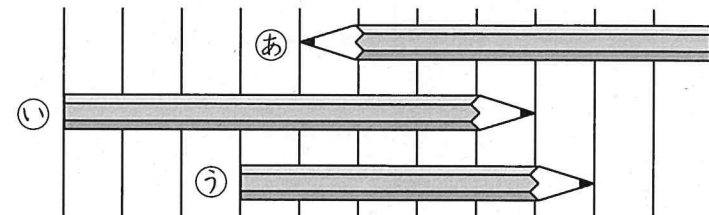
① 42は、10が こと、1が こ

② 56より 10 ^{ちい} 小さい かずは

③ 95より 5 ^{おお} 大きい かずは



6 ながい じゅんに こたえ しましょう。



,