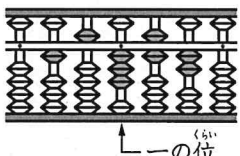


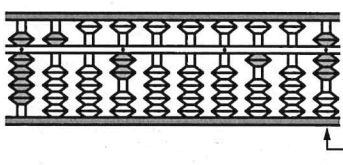
まとめのテスト⑦

	組	番
名前		
	100点	

1 そろばんに入れた数を書きましょう。

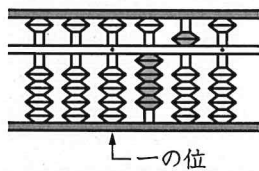
① 


□


② 

□

2 □にあてはまる数を書きましょう。

㊦ 

㊧ 

㊨ 

① ㊧のそろばんに入れた数は、㊦のそろばんに入れた数の□倍です。

② ㊨のそろばんに入れた数は、㊧のそろばんに入れた数の□倍です。

③ ㊨のそろばんに入れた数は、㊦のそろばんに入れた数の□倍です。

3 計算をしましょう。

① 42.6×7 ② 0.4×69

③ 9.07×23 ④ 5.75×4

⑤ 0.869×79 ⑥ $25.2 \div 7$

⑦ $221.1 \div 67$ ⑧ $24.93 \div 9$

⑨ $6.513 \div 39$ ⑩ $15 \div 4$