


準備…定規



まとめのテスト⑧

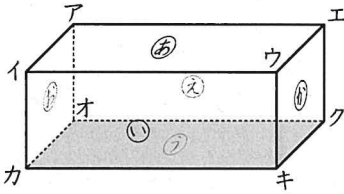
名前

組

番

100点

1 下の直方体を見て答えましょう。



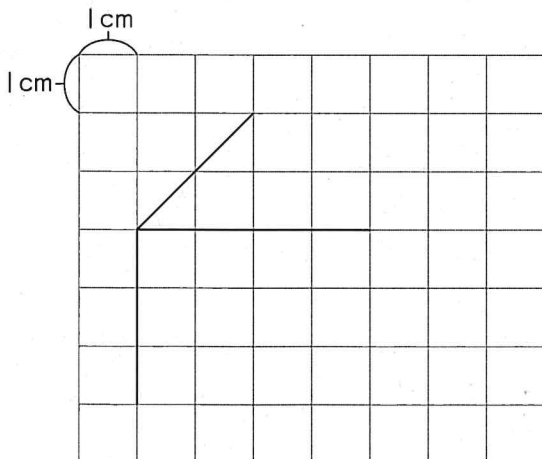
① 面②と平行な面を書きましょう。

② 面③と垂直な面をすべて書きましょう。


③ 面④と垂直な辺をすべて書きましょう。

④ 辺アイと平行な辺をすべて書きましょう。

2 直方体の見取図をとちゅうまでかきました。つづきをかきましよう。



3 下の図を見て、 $\frac{1}{4}$ と大きさの等しい分数を2つ書きましよう。



4 ()の中の数を、大きい順に書きましよう。

(2, $\frac{12}{5}$, $\frac{4}{5}$, $1\frac{3}{5}$)

 · · ·

5 計算をしましよう。

① $\frac{4}{9} + \frac{13}{9}$

② $4\frac{2}{5} + 3\frac{1}{5}$

③ $2\frac{11}{13} + 1\frac{6}{13}$

④ $\frac{13}{10} - \frac{3}{10}$

⑤ $5\frac{1}{9} - 2\frac{5}{9}$

⑥ $8 - 3\frac{4}{7}$